

Usuń blokady

ZALÓŻ DARMOWE KONTO



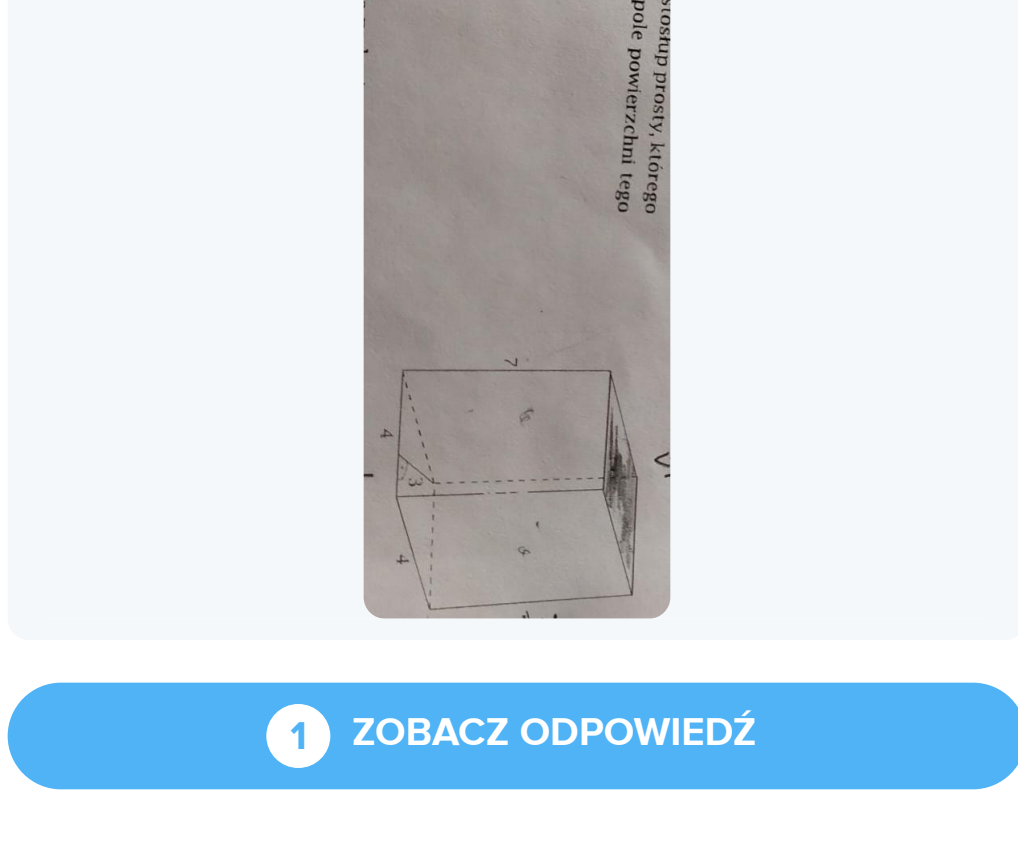
livvmonster

20.05.2019 • Matematyka • Szkoła podstawowa

rozwiązane

Proszę o pomoc

rysunek przedstawia graniastosłup prosty którego podstawą jest romb oblicz pole powierzchni tego graniastosłupa




1 ZOBACZ ODPOWIEDŹ



Zaloguj się, by dodać komentarz


allegro



SMART

Nuk MedicPro sterylny Smoczek z Tpe 0-6m - 1M


2,49 zł



SMART

Bc Okrycie Kąpielowe Kapturek Ręcznik 80x80 Pi...

19,88 zł



SMART

Mamo Tato Pieluszki Muślinowe 80X80 + Myjka

31,98 zł

Odpowiedź

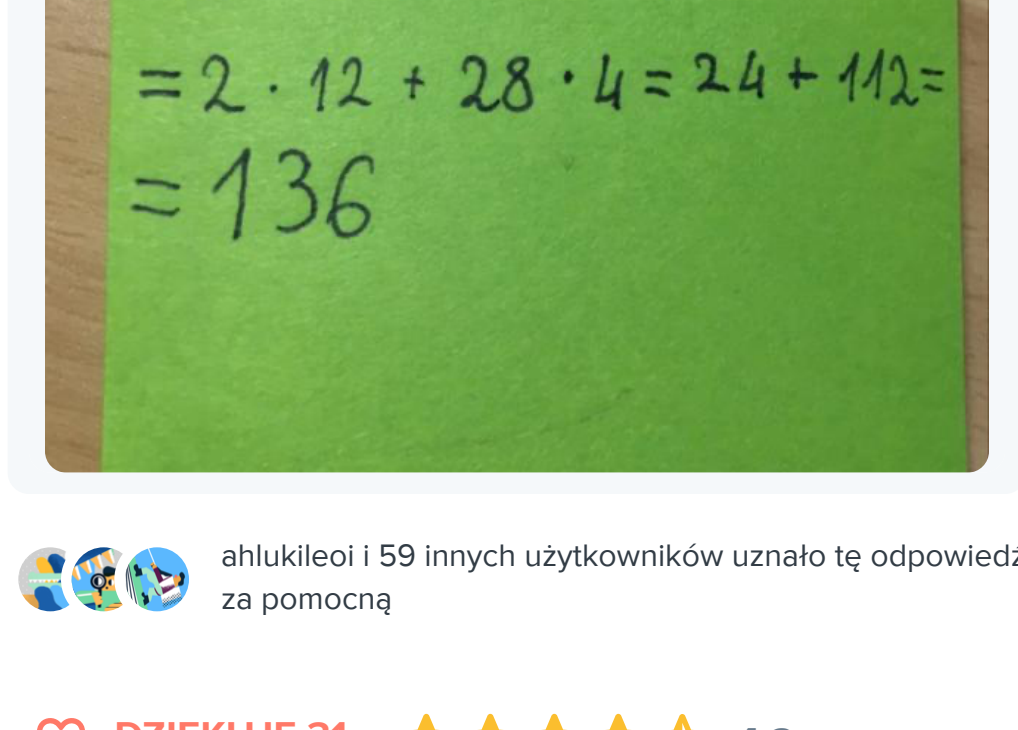
★ 4,3/5 ❤️ 31



julinec20607

Ambitny • 7 odpowiedzi • 356 osób dostało pomoc

Proszę, mam nadzieję że pomogłam




ahlukileoi i 59 innych użytkowników uznało tę odpowiedź za pomocną

❤️ **DZIĘKUJĘ 31** ★★★★★ **4,3** (28 głosów)



1



dziękuję



Zaloguj się, by dodać komentarz

Chcesz jeszcze o coś zapytać?

ZNAJDŹ WIĘCEJ ODPOWIEDZI

+ ZADAJ PYTANIE

Zyskaj więcej możliwości

- ✓ 15 odpowiedzi dziennie
- ✓ Zadawaj własne pytania
- ✓ Mierz swój postęp w nauce

ZALÓŻ DARMOWE KONTO

Masz już konto? [Zaloguj się](#)

Najnowsze pytania z przedmiotu Matematyka

Pliss na teraz potrzebuje !

proszę o dość szybkie zrobienie, to na teraz, wynik z rowiązaniem, wyrażenia algebraiczne

Ile procent liczby a) 50 stanowi 20 b) 75 stanowi 5 c) 95 stanowi 35proszę dokładne obliczenia

ej wytłumaczy mi ktoś równania czyli np 2+x+3x=3 bo niedługo mam z tego sprawdzian a ja nic nie wiem

2(2 3) ² =? proszę szybką odpowiedź

Zapisz w postaci wyrażenia algebraicznego: liczbę 4 razy mniejsza od x ...x-4 liczbę o 6 większa od y ... liczbę o 7 mniejszą od z ... liczbę 2 razy wię ...

Pomoże ktoś naprawdeeee??? Będę wdzięcznaa jak ktoś pomoże Dziękuję!!!

Przekształć podane wzory jeśli to konieczne przyjmij odpowiednie założenia. a) V = Vo + at wylicz t b) 3p - d = f wylicz p c) S = v/t wylicz v d) X - ...

Oblicz pole powierzchni całkowitej i objętość sześcianu, w którym suma długości przekątnychścian wychodzących z jednego wierzchołka wynosi 21cm.

W załączniku jest wszystko plz szybko

[← Poprzednie](#)

[Następne >](#)

O nas

Zadaj pytanie



O nas

Kariera

Blog

Preferencje dotyczące ciasteczek

Pomoc

Pomoc

Regulamin

Jak zdobyć punkty?

Polityka prywatności

Zasady społeczności

Responsible disclosure program



Pobierz apkę Brainly

